


1) Si vous trouvez sur un rocher un fossile comme celui de la figure, vous aurez trouvé un ...

- a) une nummulite;
- b) un trilobite;
- c) une ammonite;
- d) une bélemnite.

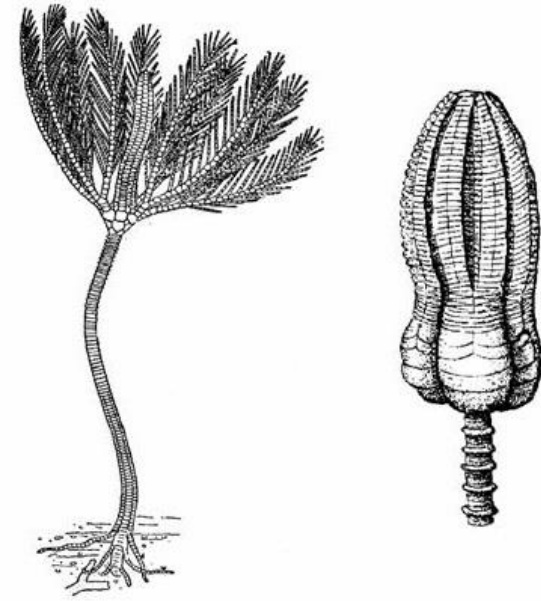


1 cm



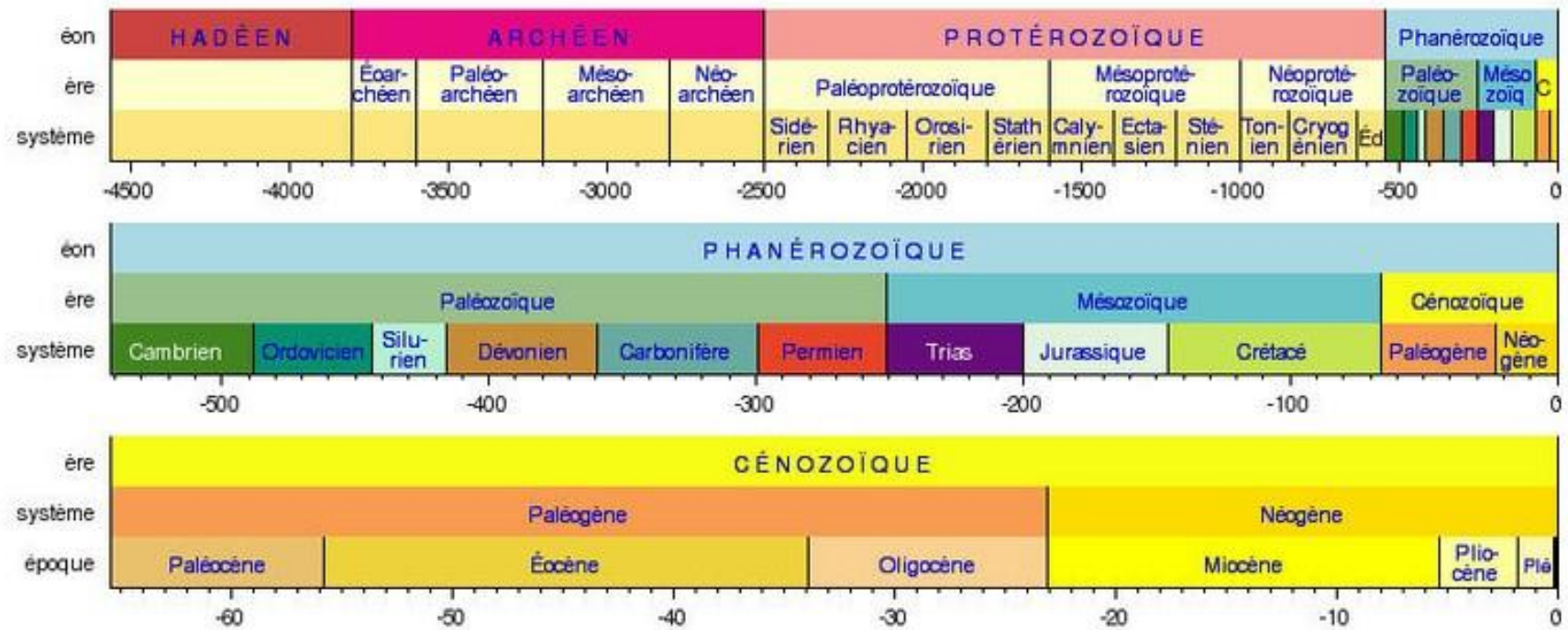
2) Si vous trouvez sur un rocher un fossile comme celui de la figure, vous aurez trouvé un ...

- a) un brachiopode;
- b) un arthropode;
- c) un crinoïde;
- d) un corail fossile.



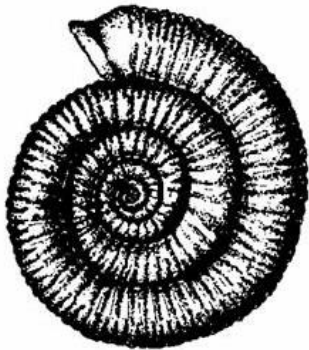
1 cm

Échelle synoptique linéaire des temps géologiques



3) Si vous trouvez sur un rocher un fossile comme celui de la figure, il est probable que la strate dans laquelle vous l'avez trouvée appartient à l'époque ...

- a) Primaire (Paléozoïque);
- b) Secondaire (Mésozoïque);
- c) Tertiaire (Cénozoïque).

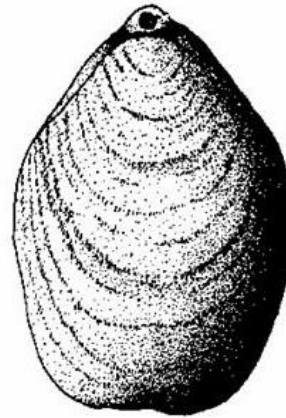


1 cm



4) Si vous trouvez sur un rocher un fossile comme celui de la figure, vous aurez trouvé un ...

- a) un brachiopode;
- b) un arthropode;
- c) un échinoderme;
- d) un mollusque.



1 cm



5) Si vous trouvez sur un rocher un fossile comme celui de la figure, vous aurez trouvé un ...

- a) une nummulite;
- b) un trilobite;
- c) une ammonite;
- d) une bélemnite.



1 cm

6) Regardez les vitrines avec des fossiles d'invertébrés qui proviennent des localités de la province de Teruel. Identifiez le nom des exemplaires des photographies suivantes. À quelles périodes géologiques appartiennent-ils? De quels endroits viennent-ils?

